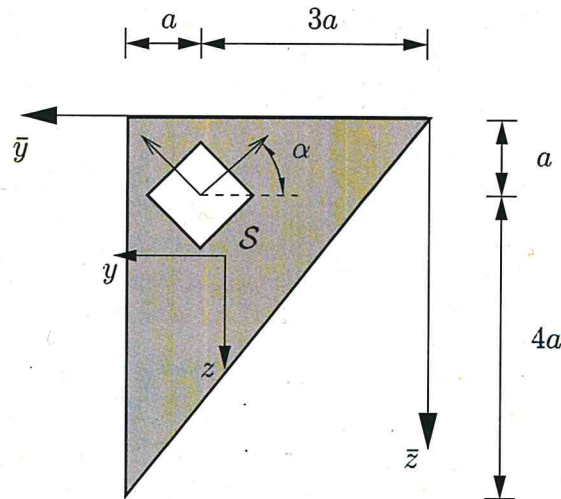


1. Aufgabe: (ca. 19% der Gesamtpunkte)



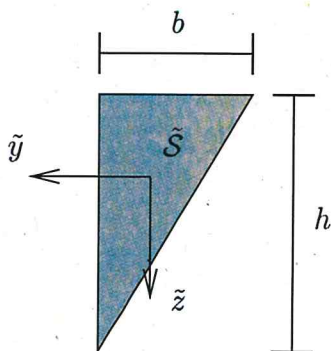
Der skizzierte Querschnitt eines rechtwinkligen Dreiecks enthält eine quadratische Aussparung der Kantenlänge a und der Neigung α .

Bestimmen Sie:

- a) die Koordinaten des Flächenschwerpunktes in Bezug auf das eingezeichnete $\bar{y} - \bar{z}$ -System.
- b) die Trägheitsmomente I_y, I_z, I_{yz} bezüglich des $y - z$ -Koordinatensystems mit Ursprung im Flächenschwerpunkt S .

Gegeben: $a, \alpha = 45^\circ$

Hinweis: Bzgl. des Flächenschwerpunktes \tilde{S} gilt:



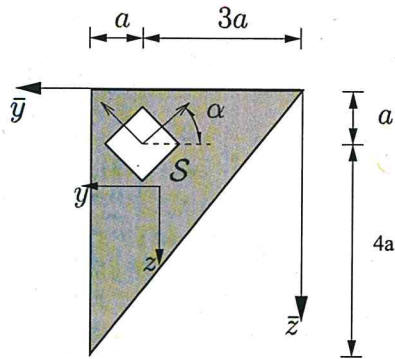
$$I_{\tilde{y}} = \int_A \tilde{z}^2 dA = \frac{1}{36}bh^3$$

$$I_{\tilde{z}} = \int_A \tilde{y}^2 dA = \frac{1}{36}b^3h$$

$$I_{\tilde{y}\tilde{z}} = \int_A \tilde{z}\tilde{y} dA = -\frac{1}{72}b^2h^2$$

Musterlösung - Aufgabe 1

a) Flächenschwerpunkt (exakt)



i	A_i	$\bar{y}_{s,i}$	$\bar{z}_{s,i}$
1	$10a^2$	$\frac{8}{3}a$	$\frac{5}{3}a$
2	a^2	$3a$	a

$$\left. \begin{aligned} \bar{y}_s &= \frac{\sum A_i \cdot \bar{y}_{s,i}}{\sum A_i} = \frac{10a^2 \cdot \frac{8}{3}a - a^2 \cdot 3a}{10a^2 - a^2} = \frac{71}{27}a \approx 2.6296a \\ \bar{z}_s &= \frac{\sum A_i \cdot \bar{z}_{s,i}}{\sum A_i} = \frac{10a^2 \cdot \frac{5}{3}a - a^2 \cdot a}{10a^2 - a^2} = \frac{47}{27}a \approx 1,7407a \end{aligned} \right\} +$$

b)

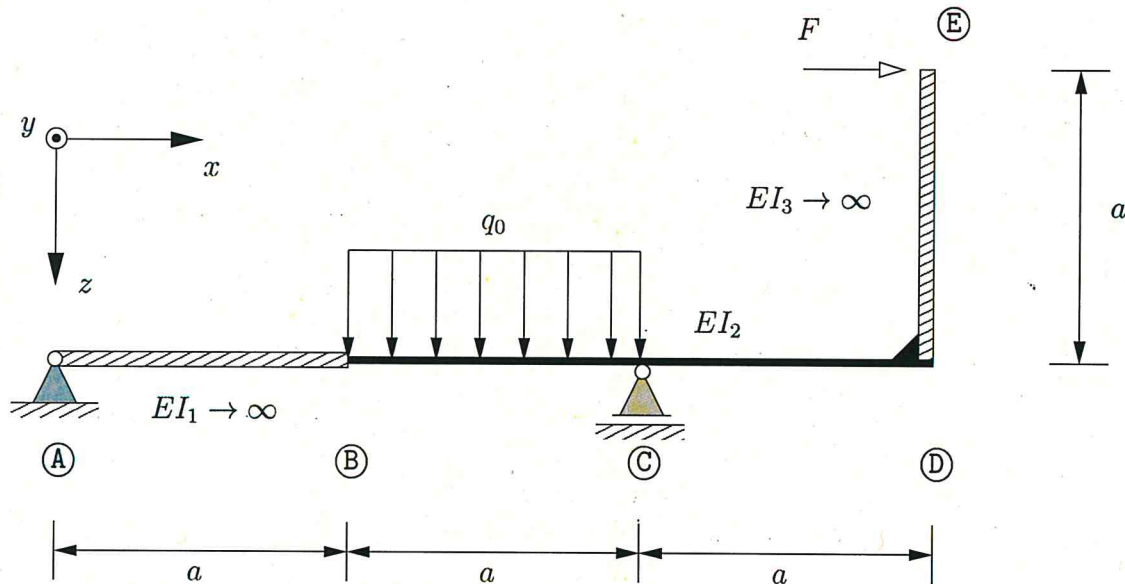
i	A_i	$I_{\bar{y},i}$	$I_{\bar{z},i}$	y_i	z_i	$A_i y_i^2$	$A_i z_i^2$	$I_{\bar{y}\bar{z}}$	$A_i y_i z_i$
1	$10a^2$	$\frac{125}{9}a^4$	$\frac{80}{9}a^4$	$\frac{1}{27}a$	$-\frac{2}{27}a$	$\frac{10}{729}a^4$	$\frac{40}{729}a^4$	$-\frac{50}{9}a^4$	$-\frac{20}{729}a^4$
2	a^2	$\frac{1}{12}a^4$	$\frac{1}{12}a^4$	$\frac{10}{27}a$	$-\frac{20}{27}a$	$\frac{100}{729}a^4$	$\frac{400}{729}a^4$	0	$-\frac{200}{729}a^4$

$$\begin{aligned} I_{y, \text{ges}} &= (I_{\bar{y},1} + A_1 z_1^2) - (I_{\bar{y},2} + A_2 z_2^2) \\ &= \left(\frac{125}{9}a^4 + \frac{40}{729}a^4 \right) - \left(\frac{1}{12}a^4 + \frac{400}{729}a^4 \right) = \frac{4313}{324}a^4 \approx 13,3117a^4 \end{aligned}$$

$$\begin{aligned} I_{z, \text{ges}} &= (I_{\bar{z},1} + A_1 y_1^2) - (I_{\bar{z},2} + A_2 y_2^2) \\ &= \left(\frac{80}{9}a^4 + \frac{10}{729}a^4 \right) - \left(\frac{1}{12}a^4 + \frac{100}{729}a^4 \right) = \frac{2813}{324}a^4 \approx 8,6820a^4 \end{aligned}$$

$$\begin{aligned} I_{yz, \text{ges}} &= (I_{\bar{y}\bar{z},1} + A_1 y_1 z_1) - (I_{\bar{y}\bar{z},2} + A_2 y_2 z_2) \\ &= \left(-\frac{50}{9}a^4 - \frac{20}{729}a^4 \right) - \left(0 - \frac{200}{729}a^4 \right) = -\frac{430}{81}a^4 \approx -5,3086a^4 \end{aligned}$$

2. Aufgabe: (ca. 35% der Gesamtpunkte)



Das dargestellte System wird durch eine konstante Streckenlast q_0 und eine Kraft $F = q_0 a$ belastet. Die Abschnitte (A) – (B) und (D) – (E) sind als biegestarr anzunehmen, der Bereich (B) – (D) besitzt die Biegesteifigkeit EI_2 .

- Geben Sie die geometrischen Rand- und Übergangsbedingungen in den Punkten (A) – (C) an. (w, w')
- Bestimmen Sie alle Auflagerkräfte.
- Bestimmen Sie den Momentenverlauf $M_y(x)$ für $2a \leq x \leq 3a$.
- Ermitteln Sie die Biegelinie $w(x)$ im Bereich (A) – (D) unter Zuhilfenahme der Ergebnisse aus a) und c), sowie den vorgegebenen Momentenverläufen:

$$M_y(x) = \begin{cases} M_I(x) = -\frac{1}{4}q_0 a x & 0 \leq x \leq a \\ M_{II}(x) = -\frac{1}{2}q_0 \left[x^2 - \frac{3}{2}ax + a^2 \right] & a \leq x \leq 2a \end{cases}$$

Achtung: Verzichten Sie auf die explizite Auflösung nach den auftretenden Integrationskonstanten !

Gegeben: $a, q_0, F = q_0 a, EI_1 \rightarrow \infty, EI_2, EI_3 \rightarrow \infty$

Musterlösung - Aufgabe 2

a) • Unterteilung in drei Bereiche : $w(x) \begin{cases} w_I(x) & \text{für } 0 \leq x \leq a \\ w_{II}(x) & \text{für } a \leq x \leq 2a \\ w_{III}(x) & \text{für } 2a \leq x \leq 3a \end{cases}$

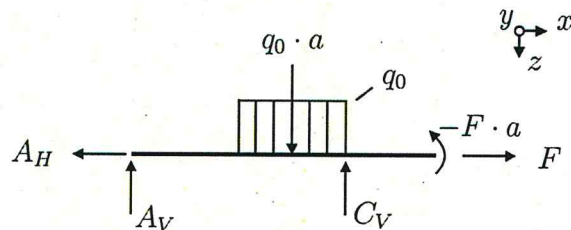
• Rand- und Übergangsbedingungen

Punkt (A) : $w_I(x=0) = 0$ (Festlager)

Punkt (B) : $w_I(x=a) = w_{II}(x=a)$
 $w'_I(x=a) = w'_{II}(x=a)$ (Starre Verbindung)

Punkt (C) : $w_{II}(x=2a) = w_{III}(x=2a) = 0$ +
 $w'_{II}(x=2a) = w'_{III}(x=2a)$

b) Auflagerkräfte



$$\sum F_x : A_H = F$$

$$\sum F_z : -A_V + q_0 \cdot a - C_V = 0 \quad (1)$$

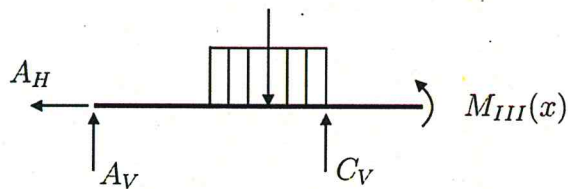
$$\sum \hat{M}^{(a)} : -\frac{3}{2}q_0 a^2 + C_V \cdot 2a - F \cdot a = 0$$

$$\Rightarrow C_V = \frac{3}{4}q_0 a + \frac{1}{2}F \quad \text{mit } F = q_0 \cdot a$$

$$\Rightarrow C_V = \frac{5}{4}q_0 a$$

in (1): $A_V = q_0 \cdot a - \frac{5}{4}q_0 a = -\frac{1}{4}q_0 a$

- c) • Bereich III: $(2a \leq x \leq 3a)$



$$\begin{aligned} \sum M^x = 0: \quad & M_{III}(x) - C_V \cdot (x - 2a) + q_0 \cdot a \left(x - \frac{3}{2}a\right) - A_V \cdot x = 0 \\ \Rightarrow M_{III}(x) = & \frac{5}{4} q_0 a (x - 2a) - q_0 a \left(x - \frac{3}{2}a\right) - \frac{1}{4} q_0 a \cdot x \\ = & \frac{1}{4} q_0 a \cdot x - \frac{10}{4} q_0 a^2 + \frac{3}{2} q_0 a^2 - \frac{1}{4} q_0 a \cdot x \\ = & -q_0 a^2 \quad + \end{aligned}$$

$$M(x) \begin{cases} M_I(x) = -\frac{1}{4} q_0 a \cdot x \\ M_{II}(x) = -\frac{1}{2} q_0 \left(x^2 - \frac{3}{2} a x + a\right) \\ M_{III}(x) = -q_0 a^2 \end{cases}$$

- d) • Bereich I: $(0 \leq x \leq a)$

$$\begin{aligned} \underbrace{EI_1}_{\rightarrow \infty} w_I''(x) = -M_I(x) & \Rightarrow \lim_{EI_1 \rightarrow \infty} (w_I''(x)) = \lim_{EI_1 \rightarrow \infty} \left(-\frac{M_I(x)}{EI_1}\right) = 0 \\ \Rightarrow w_I''(x) & = 0 \end{aligned}$$

Quadrieren:

$$\begin{aligned} w_I'(x) & = C_1 \\ w_I(x) & = C_1 x + C_2 \quad \text{Geradengleichung} \end{aligned}$$

- Bereich II: $(a \leq x \leq 2a)$

$$\begin{aligned} EI_2 w_{II}''(x) & = -M_{II} = \frac{1}{2} q_0 \left(x^2 - \frac{3}{2} a x + a^2\right) \\ EI_2 w_{II}'(x) & = \frac{1}{2} q_0 \left(\frac{1}{3} x^3 - \frac{3}{4} a x^2 + a^2 x\right) + C_3 \\ EI_2 w_{II}(x) & = \frac{1}{2} q_0 \left(\frac{1}{12} x^4 - \frac{3}{12} a x^3 + \frac{1}{2} a^2 x^2\right) + C_3 x + C_4 \end{aligned}$$

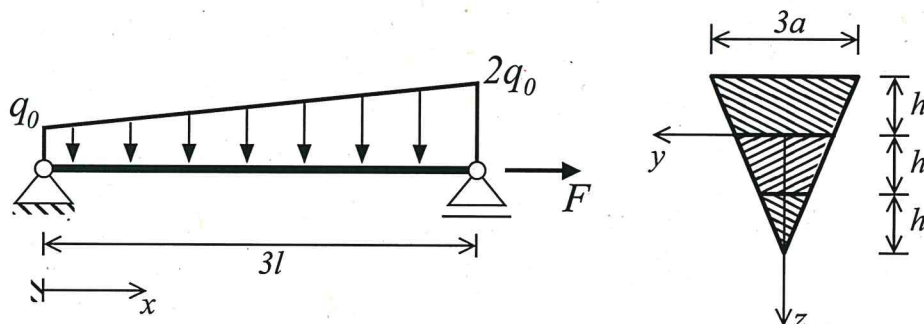
- Bereich III: ($2a \leq x \leq 3a$)

$$EI_2 w''_{III}(x) = -M_{III}(x) = q_0 a^2$$

$$EI_2 w'_{III}(x) = q_0 a^2 x + C_5$$

$$EI_2 w_{III}(x) = \frac{1}{2} q_0 a^2 x^2 + C_5 x + C_6$$

3. Aufgabe:



Für das dargestellte System wird ein aus drei verleimten Balken der Höhe h zusammengesetztes Querschnittsprofil verwendet. Für die skizzierte Belastung seien die Schnittgrößenverläufe wie folgt bereits ermittelt worden:

$$N = F, \quad M_y(x) = q_0 l \left(2x - \frac{1}{2} \frac{x^2}{l} - \frac{1}{18} \frac{x^3}{l^2} \right), \quad Q_z(x) = q_0 l \left(2 - \frac{x}{l} - \frac{1}{6} \frac{x^2}{l^2} \right)$$

Ermitteln Sie an der Stelle $x = 2l$

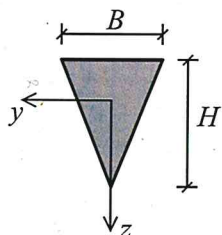
- die Schubspannungen in den Fugen bei $z = 0$ und $z = h$,
- die erforderliche Balkenhöhe h , sodass gilt: $|\tau_{xz}| \leq \frac{1}{5} \frac{q_0 l}{a^2}$.

Im Folgenden ist $h = a$ anzunehmen.

- Geben Sie an wie groß die Zugkraft F sein muss, damit an der Stelle $x = 2l$ der gesamte Querschnitt auf Zug ($\sigma > 0$) belastet ist.

Gegeben: a, l, q_0

Hinweis:



$$I_y = \frac{BH^3}{36}$$

Aufgabe 3

a) Berechnung der Schubspannung in der oberen und unteren Fuge:

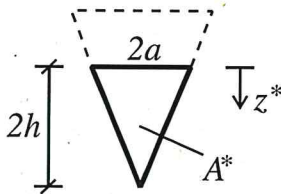
$$I_y = \frac{3a(3h)^3}{36} = \frac{9}{4}ah^3$$

FTM konstant über die Länge

$$Q_z(x=2l) = \dots = -\frac{2}{3}q_0l$$

Querkraft an der Stelle $x=2l$

Obere Fuge $z=0$:

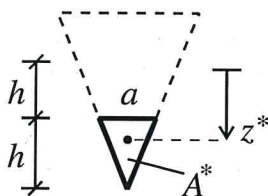


$$b(z=0) = 2a$$

$$S_y(z=0) = \underbrace{\frac{1}{3} \cdot 2h}_{z^*} \cdot \underbrace{\frac{1}{2} \cdot 2a \cdot 2h}_{A^*} = \frac{4}{3}ah^2$$

$$\Rightarrow \underline{\underline{\tau_{xz}^{oben}}} = \frac{Q_z(x) S_y(z)}{I_y b(z)} = \frac{-\frac{2}{3}q_0l \cdot \frac{4}{3}ah^2}{\frac{9}{4}ah^3 \cdot 2a} = \underline{\underline{-\frac{16 q_0 l}{81 ah}}}$$

Untere Fuge $z=h$:



$$b(z=0) = a$$

$$S_y(z=0) = \underbrace{\left(h + \frac{1}{3} \cdot h\right)}_{z^*} \cdot \underbrace{\frac{1}{2} \cdot a \cdot h}_{A^*} = \frac{2}{3}ah^2$$

$$\Rightarrow \underline{\underline{\tau_{xz}^{unten}}} = \frac{Q_z(x) S_y(z)}{I_y b(z)} = \frac{-\frac{2}{3}q_0l \cdot \frac{2}{3}ah^2}{\frac{9}{4}ah^3 \cdot a} = \underline{\underline{-\frac{16 q_0 l}{81 ah}}}$$

b) Bemessung der Balkenhöhe h

$$|\tau_{xz}^{oben}| = |\tau_{xz}^{unten}| = \frac{16 q_0 l}{81 a h} \stackrel{!}{\leq} \frac{1 q_0 l}{5 a^2} \Leftrightarrow \underline{h \geq \frac{16}{81} \cdot \frac{5}{1} \cdot a = \frac{80}{81} a \approx a}$$

c) Normalspannung infolge gerader Biegung und Normalkraft soll an der Stelle $x = 2l$ für alle z größer 0 sein. Das gilt, wenn

$$\sigma = \frac{N}{A} + \frac{M_y(x = 2l)}{I_y} \cdot z \stackrel{!}{\geq} 0$$

Im Bereich $0 \leq z \leq +2a$ ist $\sigma > 0$, da

$$N = F > 0$$

$$M_y(x = 2l) = q_0 l \left(2 \cdot 2l - \frac{1}{2} \cdot \frac{4l^2}{l} - \frac{1}{18} \cdot \frac{8l^3}{l^2} \right) = \frac{14}{9} q_0 l^2 > 0$$

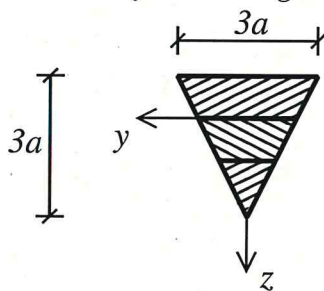
Im Bereich $-a \leq z < 0$ ist $\sigma > 0$, wenn an der Querschnittoberkante gilt

$$\sigma(z = -a) \geq 0$$

$$\Leftrightarrow \frac{F}{A} + \frac{M_y(x = 2l)}{I_y} \cdot (-a) \stackrel{!}{\geq} 0$$

$$\Leftrightarrow F \geq M_y(x = 2l) \cdot \frac{A}{I_y} \cdot a$$

Für den Querschnitt gilt

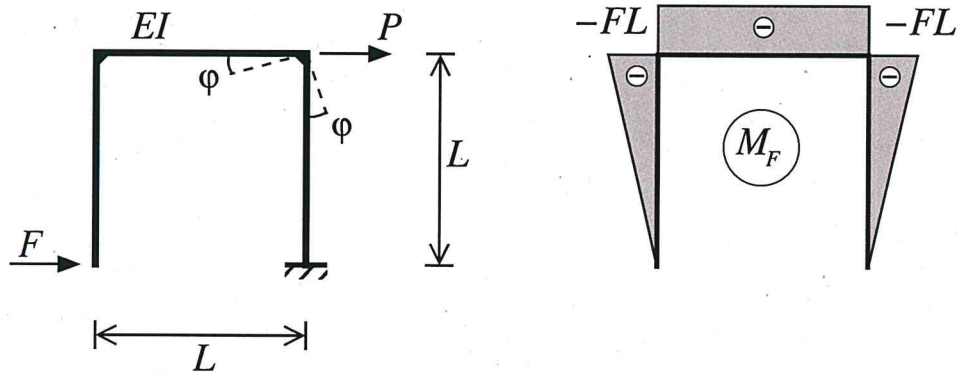


$$A = \frac{1}{2} \cdot 3a \cdot 3a = \frac{9}{2} a^2$$

$$I_y = \frac{9}{4} a^4 \quad \text{aus a) mit } h = a$$

$$\Rightarrow F \geq \frac{14}{9} q_0 l^2 \cdot \frac{\frac{9}{2} a^2}{\frac{9}{4} a^4} \cdot a = \frac{14}{9} q_0 l^2 \cdot \frac{2}{a} = \frac{28}{9} \frac{q_0 l^2}{a} \approx 3.1 \frac{q_0 l^2}{a}$$

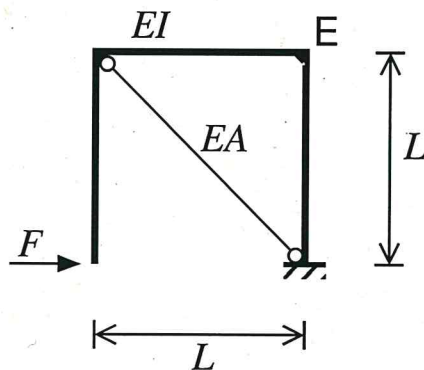
4. Aufgabe:



Für obiges System ist der Momentenverlauf M_F infolge der Last F gegeben. Die Dehnsteifigkeit im Balken ist zu vernachlässigen.

a) Wie groß muss die Last P sein, damit $\varphi = 0$ gilt.

Das System wird um einen Stab mit der Dehnsteifigkeit $EA = \frac{3EI}{5L^2}$ ergänzt, und nur noch durch die Last F belastet.



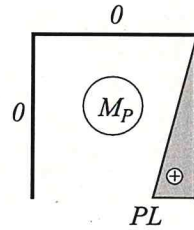
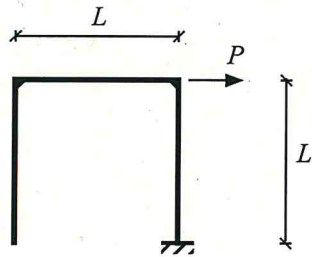
b) Berechnen Sie die Kraft im Stab.

Gegeben: L , F , EI

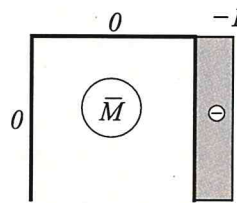
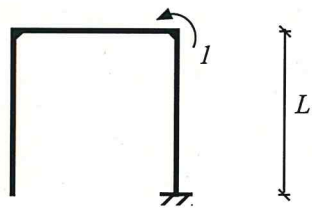
Hinweis: Die Aufgabe ist mit dem Prinzip der virtuellen Kräfte zu lösen.

Aufgabe 4

a) Last P berechnen:



infolge der Last P ,



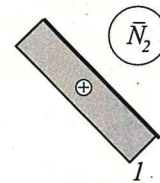
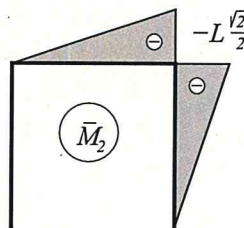
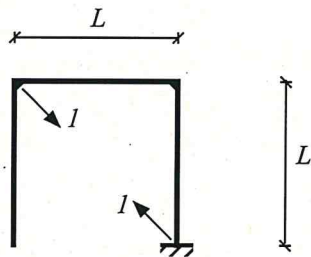
und infolge der Last I in Richtung der gesuchten Verdrehung.

Verdrehung φ

$$\varphi = \int \frac{(M_F + M_P)\bar{M}}{EI} dx = \underbrace{\frac{1}{EI} \cdot \frac{1}{2} \cdot (-FL) \cdot (-1) \cdot L}_{\text{infolge F}} + \underbrace{\frac{1}{EI} \cdot \frac{1}{2} \cdot (PL) \cdot (-1) \cdot L}_{\text{infolge P}}$$

$$= \frac{1}{2} \frac{L^2}{EI} (F - P) \Rightarrow \varphi = 0 \text{ für } P = F.$$

b) Stabkraft berechnen:



Einflusszahlen und Stabkraft:

$$\begin{aligned}\alpha_{10} &= \int \frac{M_F \bar{M}_2}{EI} dx + \int \frac{N_F \bar{N}_2}{EA} dx \\ &= \frac{L}{EI} \left(\frac{1}{2} (-FL) \left(-L \frac{\sqrt{2}}{2} \right) + \frac{1}{3} \cdot (-FL) \left(-L \frac{\sqrt{2}}{2} \right) \right) + \frac{L}{EA} \cdot 0 = \frac{5\sqrt{2} FL^3}{12 EI}\end{aligned}$$

$$\begin{aligned}\alpha_{11} &= \int \frac{(\bar{M}_2)^2}{EI} dx + \int \frac{(\bar{N}_2)^2}{EA} dx \\ &= \frac{L}{EI} \left(\frac{2}{3} \cdot \left(-L \frac{\sqrt{2}}{2} \right)^2 \right) + \frac{\sqrt{2}L}{3EI} \cdot 1^2 = \frac{(1 + 5\sqrt{2}) L^3}{3EI} \\ &\quad \frac{5L^2}{5L^2}\end{aligned}$$

$$\Rightarrow S = \frac{-\alpha_{10}}{\alpha_{11}} = \frac{-5\sqrt{2} FL^3}{12 EI} \cdot \frac{3 EI}{(1 + 5\sqrt{2}) L^3} = \frac{-5\sqrt{2}}{4(1 + 5\sqrt{2})} F \approx -0.22F$$