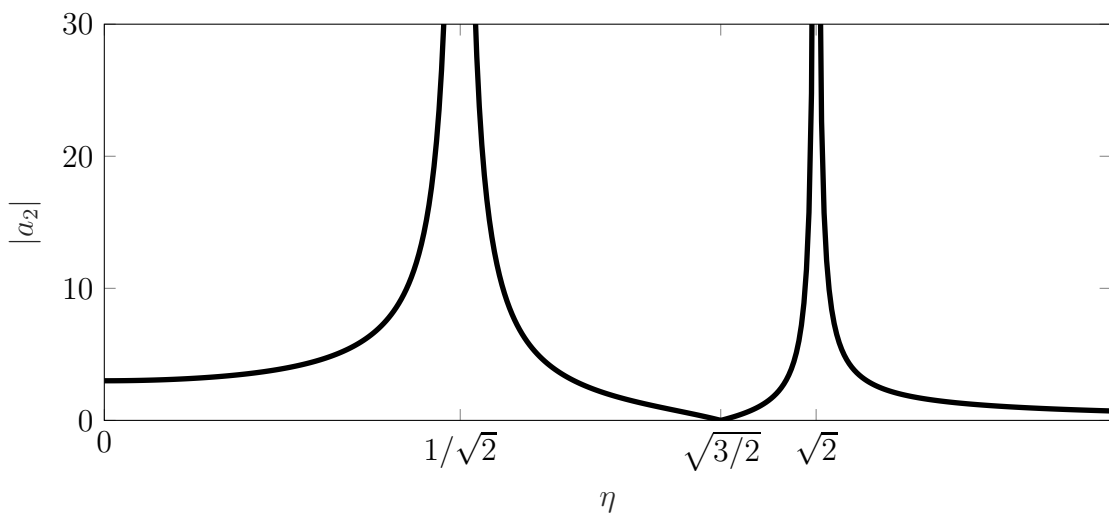


1. Aufgabe: (ca. 17% der Gesamtpunkte)

- Bei einem Feder-Masse-Dämpfer-System (DGL: $m\ddot{x} + d\dot{x} + cx = 0$) mit der Masse m und Federsteifigkeit c beträgt die Amplitude nach $n = 10$ Schwingungszyklen ein Viertel des Anfangswertes. Wie groß ist die Dämpfungskonstante d ?
- Nennen Sie drei Möglichkeiten der Schwingungsreduzierung bzw. -vermeidung.
- Das Phänomen der Schwebung betrifft zwei benachbarte Gebäude. Wie kann in diesem Fall das Phänomen theoretisch verhindert und praktisch abgemildert werden?
- Für einen Schwinger mit zwei Freiheitsgraden ist der Betrag der Amplitude des 2. Freiheitsgrads $|a_2|$ über das Abstimmungsverhältnis η aufgetragen



Benennen Sie das Verhalten bzw. die Effekte bei $\eta = 0$, $\eta = 1/\sqrt{2}$, $\eta = \sqrt{3/2}$ und $\eta = \sqrt{2}$.

- Was wird unter Scheinresonanz verstanden? Wäre es ratsam, ein Bauwerk auf diese Scheinresonanz hin zu bemessen?

Musterlösung - Aufgabe 1

a) geg.: $x_{10} = \frac{1}{4}x_0$

logarithmisches Dekrement

$$\begin{aligned}\delta &= \frac{1}{n} \ln\left(\frac{x_n}{x_{n+1}}\right) = \frac{1}{10} \ln\left(\frac{x_0}{x_{10}}\right) = \frac{1}{10} \ln(4) \\ &= \frac{2\pi D}{\sqrt{1-D^2}}\end{aligned}$$

$$\Leftrightarrow (1-D^2)\delta^2 = (2\pi D)^2 \quad \Leftrightarrow D^2(4\pi^2 + \delta^2) = \delta^2 \quad \Leftrightarrow D = \frac{\delta}{\sqrt{4\pi^2 + \delta^2}} = 0.021$$

$$\Rightarrow d = 2m\omega_0 D = 2\sqrt{mc}D = 0.0441\sqrt{cm}$$

- b)
- Dämpfung
 - Über- bzw. unterkritische Abstimmung des Gebäudes / aktive und passive Abschirmung (Maschinen vom Gebäude oder Gebäude vom Fundament (Erdbeben))
 - Tilger (Hinzufügen eines Feder-Masse-Systems - Tilger schwingt statt Gebäude)
- c) Verhinderung: Unendlich steifer Boden
Abmilderung: Dämpfung
- d)
- $\eta = 0$: Eigenschwingung
 - $\eta = 1/\sqrt{2}$ und $\eta = \sqrt{2}$: Resonanz
 - $\eta = \sqrt{3/2}$: Schwingungstilgung
- e) Scheinresonanz: Für eine Resonanzstelle $\Omega = \omega_i$ besitzt die Amplitude eine hebbare Unstetigkeit (Zähler und Nenner gleich Null). Trotz der Resonanzbedingung bleiben die Amplituden endlich, da die zugehörige Eigenform nicht angeregt wird.
- Nein, Kenntnisse des Systems (m_{ij} , k_{ij} , Ω) nicht immer exakt bekannt und kleine Abweichungen heben Scheinresonanz auf.

2. Aufgabe: (ca. 9% der Gesamtpunkte)

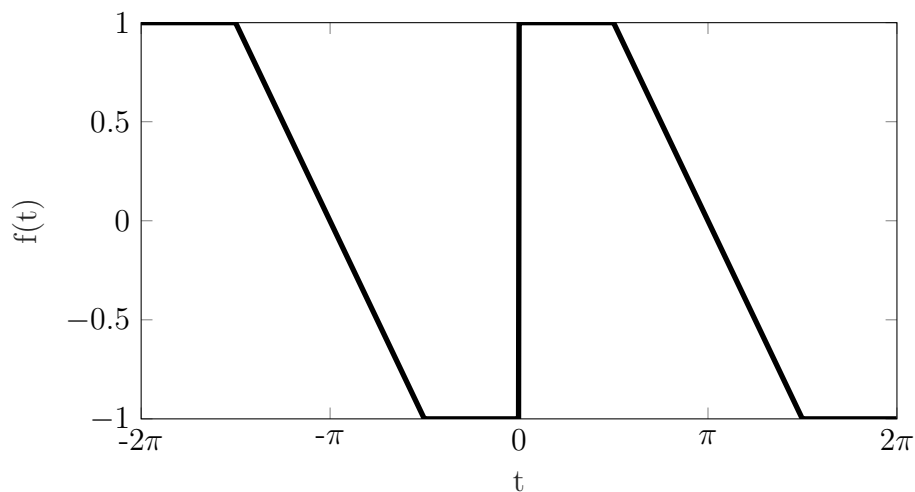
Betrachtet wird eine 2π -periodische Funktion $f : \mathbb{R} \rightarrow \mathbb{R}$ mit $f(t + 2\pi) = f(t)$ für $t \in \mathbb{R}$. Die Funktion ist folgendermaßen definiert

$$f(t) = \begin{cases} 1 & \text{für } t \in [0, \pi/2) \\ -2/\pi t + 2 & \text{für } t \in [\pi/2, 3\pi/2) \\ -1 & \text{für } t \in [3\pi/2, 2\pi) \end{cases}$$

- a) Skizzieren Sie die Funktion auf dem Intervall $[-2\pi, 2\pi]$.
- b) Stellen Sie die Integrale zur Bestimmung der Fourierkoeffizienten von $f(t)$ auf. Begründen Sie anhand der Integrale, welche Fourierkoeffizienten gleich Null und welche Fourierkoeffizienten von Null verschieden sind? **Eine Berechnung ist nicht erforderlich!**

Musterlösung - Aufgabe 2

a)



b) Fourier-Reihe

$$f_e(t) = a_0 + \sum_{k=1}^{\infty} \left[\underbrace{C_k}_{a_k} \cos(k\omega t) + \underbrace{S_k}_{b_k} \sin(k\omega t) \right]$$

$f(t)$ ist eine ungerade Fkt. $f(t) = -f(-t) \forall t \in \mathbb{R}$

$$a_0 = \frac{1}{T} \int_0^T \underbrace{f(t)}_{\text{ungerade}} dt = 0$$

Integral über ungerade Fkt. ist = 0 bzw. siehe Flächeninhalt Skizze

$$a_k = C_k = \frac{2}{T} \int_0^T \underbrace{f(t)}_{\text{ungerade}} \underbrace{\cos(k\omega t)}_{\text{gerade}} dt = 0$$

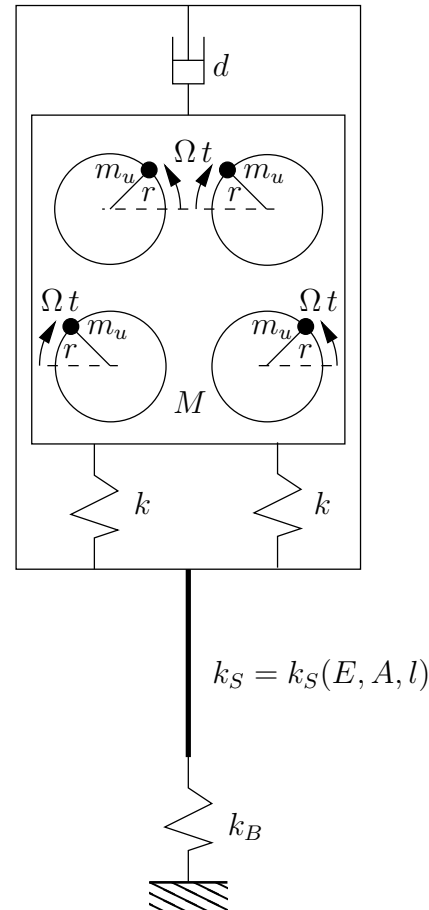
ungerade mal gerade Fkt. ergibt ungerade Fkt.; Integral über ungerade Fkt. ist = 0

$$b_k = S_k = \frac{2}{T} \int_0^T \underbrace{f(t)}_{\text{ungerade}} \underbrace{\sin(k\omega t)}_{\text{ungerade}} dt \neq 0$$

ungerade mal ungerade Fkt. ergibt gerade Fkt.; Integral über gerade Fkt. ist $\neq 0$

3. Aufgabe: (ca. 34% der Gesamtpunkte)

Bei einem Vibrationsbär ist der Antrieb (Masse M ohne Berücksichtigung der Unwuchtmassen m_u) über ein Gehäuse (wird als masselos angenommen) wie abgebildet fest (Klammerung) mit dem in den Boden zu bringenden Rammgut verbunden. Als Rammgut wird eine Spundwand (E-Modul E , Querschnittsfläche A , Länge l) betrachtet, welche als fest mit dem Boden (Steifigkeit k_B) verbunden angenommen werden soll. Das gesamte System kann somit als raumfest betrachtet werden. Im Antrieb laufen vier Unwuchten (Massen jeweils m_u , Unwuchtradien r) mit konstanten Winkelgeschwindigkeiten Ω wie abgebildet gegenläufig um. Die Erdanziehung sei zu vernachlässigen. Das System sei schwach gedämpft $0 < D < 1$.



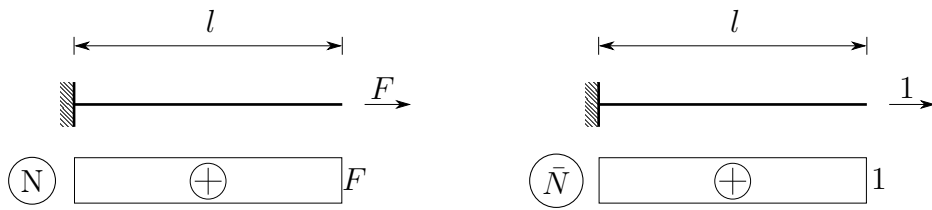
- a) Berechnen Sie die Ersatzfedersteifigkeit $k_S = k_S(E, A, l)$ der Spundwand. Gegeben: E, A, l .

Im Folgenden soll mit k_S weiter gerechnet werden. Gegeben: $M, m_u, r, k, k_B, k_S, d, \Omega$.

- b) Schneiden Sie das System frei. Bestimmen Sie die Ersatzfedersteifigkeit k_{Ers} für das komplette System.
- c) Bestimmen Sie die Bewegungsgleichung für das vorliegende System im Rahmen der synthetischen Methode.
- d) Bestimmen Sie die homogene Lösung der Bewegungsgleichung in Abhängigkeit der gegebenen Größen.
- e) Bestimmen Sie die partikuläre Lösung der Bewegungsgleichung in Abhängigkeit der gegebenen Größen.
- f) Geben Sie die Bedingung an um das Maximum für die Vergrößerungsfunktion V zu bestimmen.
- g) Vor dem Anschalten des Antriebs ist das System in Ruhe, die Anfangswerte zum Betriebsstart sind also $x(t = 0) = 0, v(t = 0) = 0$. Bestimmen Sie die spezielle Lösung kurz nach dem Anschalten.

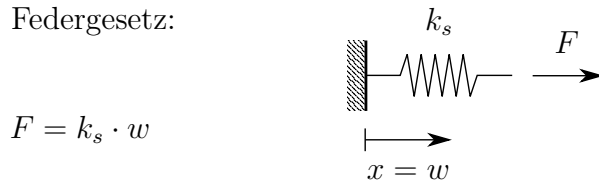
Musterlösung - Aufgabe 3

a) Bestimmung k_s :



$$\alpha_{10} = \int \frac{N\bar{N}}{EA} dx = \frac{F \cdot 1}{EA} l = \frac{Fl}{EA} = w \quad \Leftrightarrow \quad F = \frac{EA}{l} \cdot w$$

Lineares Federgesetz:



$$F = k_s \cdot w$$

Koeffizientenvergleich liefert

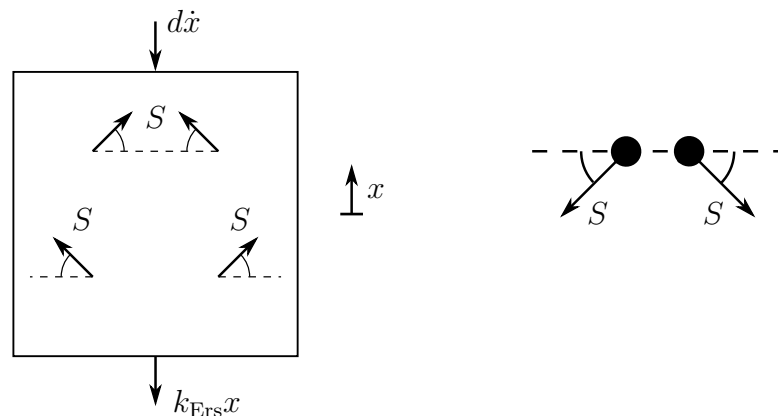
$$k_s = \frac{EA}{l}$$

b) Bestimmung k_{Ers} (Reihenschaltung: $\frac{1}{k} = \frac{1}{k_1} + \frac{1}{k_2}$, Parallelschaltung: $k = k_1 + k_2$):

$$\Rightarrow \frac{1}{k_{\text{Ers}}} = \frac{1}{k_B} + \frac{1}{k_s} + \frac{1}{2k}$$

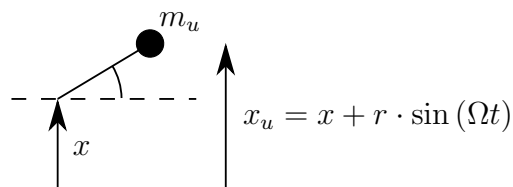
$$\Leftrightarrow k_{\text{Ers}} = \frac{1}{\frac{1}{k_B} + \frac{1}{k_s} + \frac{1}{2k}} = \frac{2k_B k_s k}{2k_s k + 2k_B k + k_B k_s}$$

Freikörperbild:



c) Aufstellen der DGL

Kinematik:



Gehäuse:

$$\uparrow: \quad M\ddot{x} = -d\dot{x} - k_{\text{Ers}}x + 4S \sin(\Omega t)$$

Unwuchtmassen:

$$\uparrow: \quad m_u \ddot{x}_u = -S \sin(\Omega t)$$

mit Kinematik:

$$\underbrace{(M + 4m_u)}_{\tilde{M}} \ddot{x} + d\dot{x} + k_{\text{Ers}}x = 4m_u r \Omega^2 \sin(\Omega t)$$

$$\Leftrightarrow \quad \ddot{x} + \frac{d}{\tilde{M}} \dot{x} + \underbrace{\frac{k_{\text{Ers}}}{\tilde{M}}}_{\omega_0^2} x = \frac{4m_u r \Omega^2}{\tilde{M}} \sin(\Omega t)$$

$$\text{EZ } (\tau = \omega_0 t): \quad x'' + \underbrace{\frac{d}{\tilde{M}\omega_0^2}}_{2D} x' + x = 4 \underbrace{\frac{m_u}{\tilde{M}} r}_{\bar{x}_0} \underbrace{\frac{\Omega^2}{\omega_0^2}}_{\eta^2} \sin(\eta\tau)$$

d) homogene Lösung:

$$x_h = e^{-D\tau} (A \cos(\nu\tau) + B \sin(\nu\tau))$$

mit $\nu = \sqrt{1 - D^2}$

e) partikuläre Lösung:

$$\text{Ansatz rechte Seite: } x_p = \bar{x}_0 \underbrace{\eta^2 V_1}_{V_1} \sin(\eta\tau - \gamma)$$

$$\text{mit } V_1 = \frac{\eta^2}{\sqrt{(1 - \eta^2)^2 + (2D\eta)^2}}, \quad \tan(\gamma) = \frac{2D\eta}{1 - \eta^2}, \quad \bar{x}_0 = 4 \frac{m_u}{\tilde{M}} r$$

f) Bedingung max Vergrößerungsfunktion

$$\frac{\partial V_1}{\partial \eta} \stackrel{!}{=} 0$$

g) spezielle Lösung:

$$x(0) = 0 \quad v(0) = 0$$

$$\begin{aligned} \text{mit: } x_s &= x_h + x_p = e^{-D\tau} (A \cos(\nu\tau) + B \sin(\nu\tau)) + \bar{x}_0 \cdot V_1 \sin(\eta\tau - \gamma) \\ x'_s &= -De^{-D\tau} (A \cos(\nu\tau) + B \sin(\nu\tau)) + e^{-D\tau} (-A\nu \sin(\nu\tau) + B \cos(\nu\tau)) \\ &\quad + \bar{x}_0 \eta V_1 \cos(\eta\tau - \gamma) \end{aligned}$$

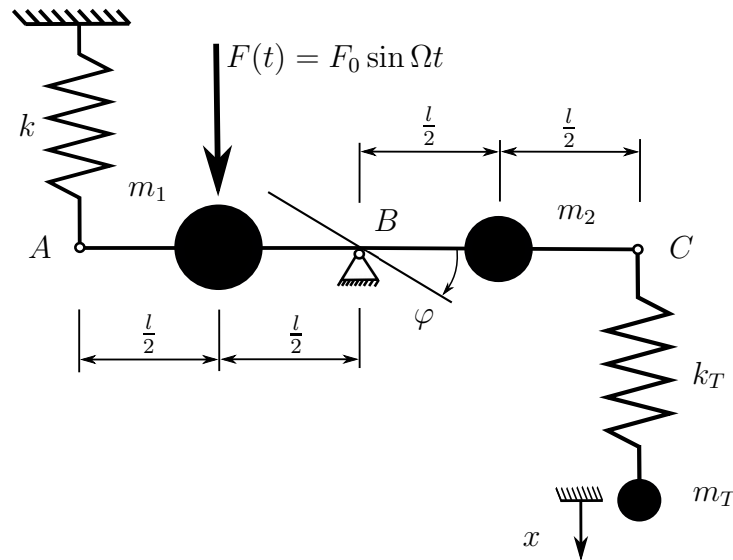
$$x_s(0) = 0 = A + \bar{x}_0 V_1 \sin(-\gamma) \quad \Leftrightarrow \quad \boxed{A = -\bar{x}_0 V_1 \sin(-\gamma)}$$

$$\dot{x}_s(0) = \omega_0 x'_s(0) = -DA + B\nu + \bar{x}_0 \eta V_1 \cos(-\gamma) = 0$$

$$\Leftrightarrow \quad \boxed{B = -\frac{1}{\nu} (D\bar{x}_0 V_1 \sin(-\gamma) + \bar{x}_0 \eta V_1 \cos(-\gamma))}$$

$$\text{ohne Phasenverschiebung } (\gamma = 0): \quad A = 0, \quad B = -\frac{\bar{x}_0 \eta V_1}{\nu}$$

4. Aufgabe: (ca. 40% der Gesamtpunkte)



Ein masseloser Stab mit konzentrierten Punktmassen (m_1, m_2) ist in Punkt B zweiwertig gelenkig gelagert und in Punkt A durch eine Feder (Federsteifigkeit k) mit der starren Umgebung verbunden. Desweiteren ist der Stab in Punkt C mit einer Tilgermasse m_T durch eine Feder (Federsteifigkeit k_T) verbunden. Beide Federelemente sind für $\varphi = 0$ und $x = 0$ entspannt. Das System wird mit einer an der Masse m_1 angreifenden Kraft $F(t)$ harmonisch mit der Frequenz Ω erregt.

Bearbeiten Sie zu oben beschriebenem System folgende Teilaufgaben:

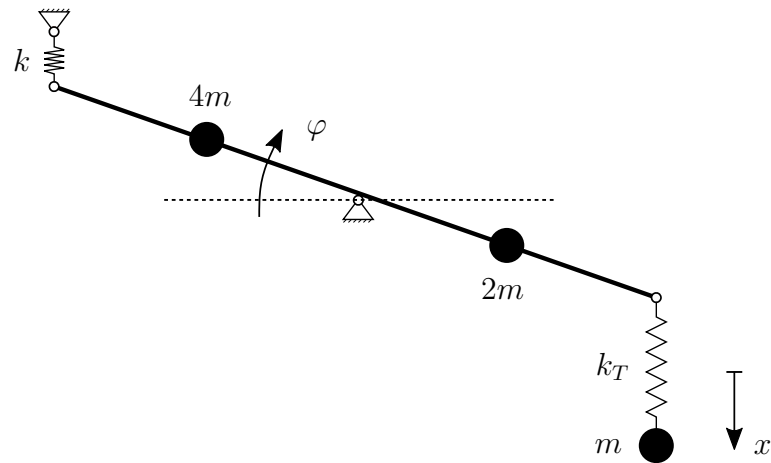
- Stellen Sie unter Verwendung der Lagrangeschen Gleichungen 2. Art die Bewegungsgleichungen für kleine Verdrehungen in Abhängigkeit der Koordinaten φ und x auf.
- Berechnen Sie die Eigenfrequenzen des Systems für $k_T = 2k$ und skizzieren Sie die zugehörigen Eigenformen.
- Bestimmen Sie die Federsteifigkeit k_T so, dass die stationäre Schwingung des masselosen Stabes getilgt wird. Wie groß ist die Amplitude der Tilgermasse in diesem Fall?

Gegeben: $m_1 = 4m$, $m_2 = 2m$, $m_T = m$, k , l , Ω , F_0

Hinweis: Die Aufgabe ist mit der Methode nach Lagrange zu lösen. Andere Lösungswege als diese werden nicht gewertet. Der Einfluss der Gravitation kann vernachlässigt werden.

Musterlösung - Aufgabe 4

a) Bewegungsgleichungen



Kinetische Energie:

$$T = \frac{1}{2} \overbrace{4m}^{m_1} \left(\frac{l}{2}\right)^2 \dot{\varphi}^2 + \frac{1}{2} \overbrace{2m}^{m_2} \left(\frac{l}{2}\right)^2 \dot{\varphi}^2 + \frac{1}{2} \overbrace{m}^{m_T} \dot{x}^2$$

$$\Rightarrow T = \frac{3}{4} ml^2 \dot{\varphi}^2 + \frac{1}{2} m \dot{x}^2$$

Potentielle Energie:

$$V = \frac{1}{2} k (\sin(\varphi) \cdot l)^2 + \frac{1}{2} k_T (x - \sin(\varphi) l)^2$$

$$= \frac{1}{2} k l^2 \sin^2(\varphi) + \frac{1}{2} k_T (x^2 - 2x \sin(\varphi) l + \sin^2(\varphi) l^2)$$

Lagrangefunktion:

$$L = \frac{3}{4} ml^2 \dot{\varphi}^2 + \frac{1}{2} m \dot{x}^2 - \frac{1}{2} l^2 \sin^2(\varphi) (k + k_T) - \frac{1}{2} k_T x^2 + k_T x \sin(\varphi) l$$

Lagrange'sche Gleichungen 2. Art:

$$\frac{\partial L}{\partial \dot{\varphi}} = \frac{3}{2} ml^2 \dot{\varphi} \quad \rightarrow \quad \frac{d}{dt} \left(\frac{\partial L}{\partial \dot{\varphi}} \right) = \frac{3}{2} ml^2 \ddot{\varphi}$$

$$\frac{\partial L}{\partial \varphi} = -\frac{1}{2} l^2 (k + k_T) \underbrace{2 \sin(\varphi) \cos(\varphi)}_{\approx \varphi} + k_T x \underbrace{\cos(\varphi) l}_{\approx 1}$$

$$\frac{\partial L}{\partial \dot{x}} = m \dot{x} \quad \rightarrow \quad \frac{d}{dt} \left(\frac{\partial L}{\partial \dot{x}} \right) = m \ddot{x}$$

$$\frac{\partial L}{\partial x} = -k_T x + k_T \underbrace{\sin(\varphi) l}_{\approx \varphi}$$

Linearisierte Bewegungsgleichungen:

$$\begin{bmatrix} \frac{3}{2} ml^2 & 0 \\ 0 & m \end{bmatrix} \begin{bmatrix} \ddot{\varphi} \\ \ddot{x} \end{bmatrix} + \begin{bmatrix} (k + k_T) l^2 & -k_T l \\ -k_T l & k_T \end{bmatrix} \begin{bmatrix} \varphi \\ x \end{bmatrix} = \begin{bmatrix} -F_0 \frac{l}{2} \sin(\Omega t) \\ 0 \end{bmatrix}$$

b) Eigenfrequenzen und Eigenformen

$$\Rightarrow k_T = 2k :$$

$$\det \begin{bmatrix} 3kl^2 - \frac{3}{2}ml^2\omega^2 & -2kl \\ -2kl & 2k - m\omega^2 \end{bmatrix} \stackrel{!}{=} 0$$

$$\Rightarrow \left(3kl^2 - \frac{3}{2}ml^2\omega^2 \right) (2k - m\omega^2) - 4k^2l^2 = 0$$

$$\Rightarrow 6k^2l^2 - 3kl^2m\omega^2 - 3ml^2k\omega^2 + \frac{3}{2}m^2l^2\omega^4 - 4k^2l^2 = 0$$

$$\Rightarrow \omega^4 - 4\frac{k}{m}\omega^2 + \frac{4}{3}\frac{k^2}{m^2} = 0$$

$$\Rightarrow \left(\omega^2 - 2\frac{k}{m} \right)^2 - 4\frac{k^2}{m^2} + \frac{4}{3}\frac{k^2}{m^2} = 0$$

$$\Rightarrow \left(\omega^2 - 2\frac{k}{m} \right)^2 = \frac{8}{3}\frac{k^2}{m^2}$$

$$\Rightarrow \omega^2 = \left(\frac{2\sqrt{3}}{\sqrt{3}} \pm \frac{2\sqrt{2}}{\sqrt{3}} \right) \frac{k}{m} = \frac{2(\sqrt{3} \pm \sqrt{2})}{\sqrt{3}} \frac{k}{m}$$

$$\omega_1^2 = \left(2 - \frac{2\sqrt{2}}{\sqrt{3}} \right) \frac{k}{m} = 0,37 \frac{k}{m}$$

$$\omega_2^2 = \left(2 + \frac{2\sqrt{2}}{\sqrt{3}} \right) \frac{k}{m} = 3,63 \frac{k}{m}$$

Eigenformen:

$$\begin{bmatrix} 3kl^2 - \frac{3}{2}ml^2\omega_i^2 & -2kl \\ -2kl & 2k - m\omega_i^2 \end{bmatrix} \begin{bmatrix} C_1^i \\ C_2^i \end{bmatrix} = \begin{bmatrix} 0 \\ 0 \end{bmatrix}$$

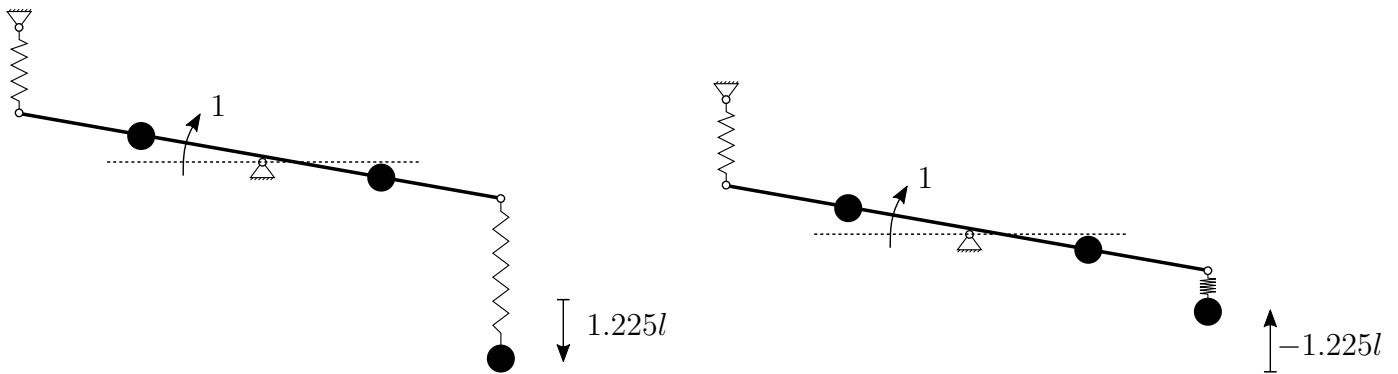
$$C_1^i = 1 : \quad 3kl^2 - \frac{3}{2}ml^2\omega_i^2 - 2kl C_2^i = 0$$

$$\rightarrow C_2^i = \frac{3kl^2 - \frac{3}{2}ml^2\omega_i^2}{-2kl}$$

$$\Rightarrow C_2^1 = \frac{3kl^2 - \frac{3}{2}ml^2 \left(2 - \frac{2\sqrt{2}}{\sqrt{3}} \right) \frac{k}{m}}{-2kl} = \frac{3\sqrt{2}}{2\sqrt{3}} l = 1,225 l$$

$$\Rightarrow C_2^2 = \frac{3l - \frac{3}{2}l \left(2 + \frac{2\sqrt{2}}{\sqrt{3}} \right)}{2} = -\frac{3\sqrt{2}}{2\sqrt{3}} l = -1,225 l$$

SKIZZE



c) Bewegungsgleichung

$$M\ddot{\mathbf{q}} + K\mathbf{q} = \mathbf{F} \quad \mathbf{F} = \begin{bmatrix} F_0 \cdot \frac{l}{2} \sin(\Omega t) \\ 0 \end{bmatrix}$$

Stationäre Lösung:

$$\text{Ansatz: } \mathbf{q} = \begin{pmatrix} a_1 \\ a_2 \end{pmatrix} \sin(\Omega t) \quad \rightarrow \ddot{\mathbf{q}} = -\Omega^2 \begin{pmatrix} a_1 \\ a_2 \end{pmatrix} \sin(\Omega t)$$

Einsetzen:

$$-M\mathbf{a}\Omega^2 \sin(\Omega t) + K\mathbf{a} \sin(\Omega t) = \begin{bmatrix} F_0 \frac{l}{2} \\ 0 \end{bmatrix} \sin(\Omega t)$$

$$\rightarrow (K - M\Omega^2) \mathbf{a} = \begin{bmatrix} F_0 \frac{l}{2} \\ 0 \end{bmatrix} \quad \text{also: } \begin{bmatrix} (k + k_T)l^2 - \frac{3}{2}ml^2\Omega^2 & -k_T l \\ -k_T l & k_T - m\Omega^2 \end{bmatrix} \begin{bmatrix} a_1 \\ a_2 \end{bmatrix} = \begin{bmatrix} F_0 \frac{l}{2} \\ 0 \end{bmatrix}$$

Cramersche Regel: $a_1 = \frac{Z_1}{N}$; $a_2 = \frac{Z_2}{N}$

$$Z_1 = \det \begin{bmatrix} F_0 \frac{l}{2} & -k_T l \\ 0 & k_T - m\Omega^2 \end{bmatrix} = F_0 \frac{l}{2} (k_T - m\Omega^2)$$

$$Z_2 = \det \begin{bmatrix} (k + k_T)l^2 - \frac{3}{2}ml^2\Omega^2 & F_0 \frac{l}{2} \\ -k_T l & 0 \end{bmatrix} = F_0 \frac{l^2}{2} k_T$$

$$N = \left(\Omega^4 - \left(\frac{2k + 5k_T}{3m} \right) \Omega^2 + \frac{2k}{3} \frac{k_T}{m^2} \right) m^2 l^2$$

Tilgung:

$$Z_1 = 0 : \quad F_0 \frac{l}{2} (k_T - m\Omega^2) \stackrel{!}{=} 0$$

$$\Rightarrow k_T = m\Omega^2$$

Amplitude:

$$a_2 = \frac{Z_2}{N} = \frac{F_0 \frac{l^2}{2} m \Omega^2}{l^2 m^2 \left(\Omega^4 - \frac{2k}{3m} \Omega^2 - \frac{5}{3} \Omega^4 + \frac{2k}{3m} \Omega^2 \right)}$$

$$= \frac{F_0 \frac{1}{2}}{-\frac{2}{3} \Omega^2 m} = -\frac{3}{4} \frac{F_0}{m \Omega^2}$$